

4- Mecânica dos Fluidos - Lei de Stevin

Exercícios Resolvidos

Exercício Resolvido 1.1

Três líquidos de massas M_1, M_2 e M_3 imiscíveis têm densidade ρ_1, ρ_2 e ρ_3 são colocadas num frasco cilíndrico cuja secção transversal é A .

Eles se distribuem de maneira uniforme no vaso (vide figura).

- Qual é a altura, no vaso, de cada líquido?
- Qual é a pressão no fundo do vaso?
- Qual é a força agindo sobre o fundo do vaso?

Resolução:

a)

$$\rho_1 = \frac{M_1}{V_1} \Rightarrow \rho_1 V_1 = M_1$$

Portanto,

$$V_1 = Ah_1 = \frac{M_1}{\rho_1}$$

Logo,

$$h_1 = \frac{M_1}{\rho_1 A}$$

$$h_2 = \frac{M_2}{\rho_2 A}$$

$$h_3 = \frac{M_3}{\rho_3 A}$$

b) no fundo a pressão é a soma das pressões, ou seja,

$$P = P_{atm} + \rho_1 g h_1 + \rho_2 g h_2 + \rho_3 g h_3$$

c) a força no fundo exercida pelos líquidos é dada por:

$$F = \frac{P}{A}$$

Logo, essa força é dada por

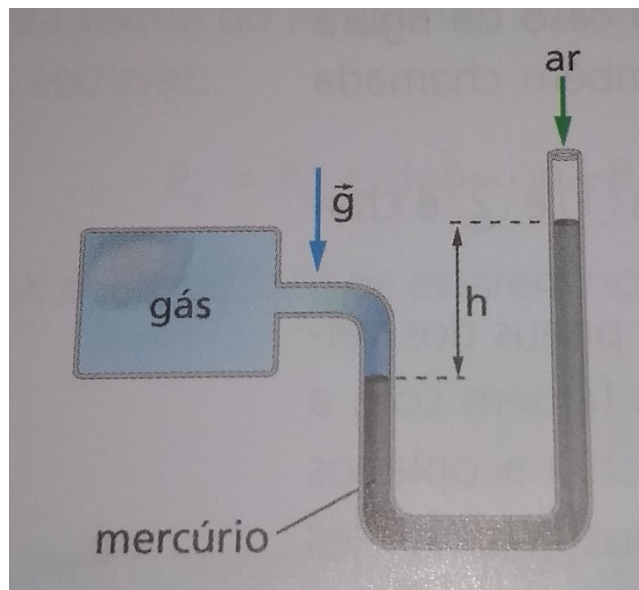
$$F = \frac{P_{atm} + \rho_1 g h_1 + \rho_2 g h_2 + \rho_3 g h_3}{A}$$

Exercício Resolvido 1.2

Um manômetro simples (voltado par medir a pressão de um gás) pode ser construído por meio do arranjo experimental ilustrado na figura abaixo. A pressão exercida pelo gás comprime uma coluna de mercúrio, cuja densidade é $13,6 \cdot 10^3 \text{ kg} / \text{m}^3$.

- Escreva uma expressão para a pressão manométrica do gás em função da altura h (o desnível indicado na figura.)
- Qual é a pressão de um gás quando constatamos que $h = 25 \text{ cm}$.

Adote $g = 10 \text{ m} / \text{s}^2$ e $P_{atm} = 1 \text{ atm} = 10^5 \text{ Pa}$



Resolução:

- A pressão exercida pelo gás é contrabalançada por duas pressões,
A pressão atmosférica:

$$P_{atm} = 1 \text{ atm} = 10^5 \text{ Pa}$$

E a pressão exercida pela coluna de mercúrio sobre o gás. E esta é dada pela expressão:

$$P_{Hg} = \rho_{Hg} g h$$

Portanto, temos

$$P_{gás} = P_{atm} + \rho_{Hg} g h$$

Nesse caso, temos adotando o SI

$$P_{Gás} = (10^5) + 13,610^3 (10)(h)$$

Assim, para a altura da coluna em metros, obtemos a seguinte expressão para a pressão do gás na unidade Pascal:

$$P_{Gás} = 10^5 (1 + 1,36h)$$

- Lembrando que

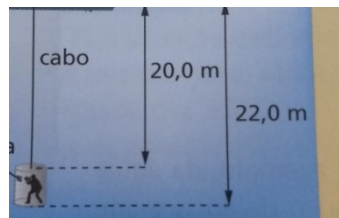
$$0,25\text{cm} = \frac{1}{4}\text{m}$$

A pressão na unidade Pascal será:

$$P_{Gás} = 10^5 \left(1 + \frac{1,36}{4}\right) = 1,3410^5 \text{ Pa}$$

Exercício Resolvido 1.3

Uma câmara cilíndrica tem paredes de aço. Sua massa é $m = 3000\text{kg}$. A área da base do cilindro é $A = 1,50\text{m}^2$ e sua altura é $2,0\text{ m}$. A câmara é mantida numa profundidade indicada na figura por meio de um cabo de aço preso a uma embarcação. Suponha que a aceleração da gravidade local seja $g = 10,0\text{ m/s}^2$, e que a densidade da água seja constante e dada por $\rho = 10^3\text{ kg/m}^3$.



Calcule a intensidade da:

- Determine a diferença de forças exercidas pela água na base inferior e superior da câmara (a força resultante de diferenças de pressão). Que força é essa?
- Determine a força de tração no fio.

Resolução:

- Na profundidade $h_1 = 20,0$, a pressão P_1 é dada por:

$$P_1 = P_{atm} + \rho g h_1$$

Na profundidade $h_2 = 22,0$, a pressão é dada por:

$$P_2 = P_{atm} + \rho g h_2$$

A diferença de forças é

$$F_2 - F_1 = (P_2 - P_1) A$$

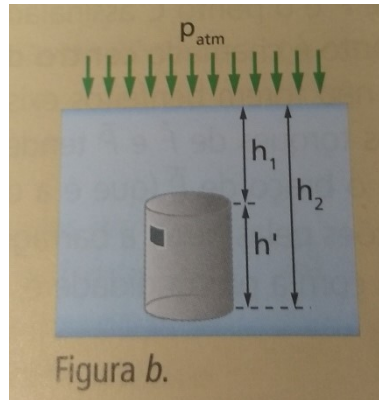
Que se pode escrever como

$$F_2 - F_1 = \rho g (h_2 - h_1) A = \rho g V$$

Onde V é o volume do cilindro. Obtemos

$$F_2 - F_1 = (4,80 - 4,50) \cdot 10^5 N = 0,3 \cdot 10^5 N$$

Essa força é o empuxo



b) A câmara está em equilíbrio sob a ação de três forças (fig.): a tração do fio (\vec{T}), o peso (\vec{P}) e a força total exercida pela água (\vec{E}):

Assim, devemos ter:

$$T + E = P \text{ ou } T = P - E$$

Mas:

$$P = mg$$

$$P = (3200\text{kg})(10\text{m/s}^2)$$

$$P = 3,2 \cdot 10^4 N$$

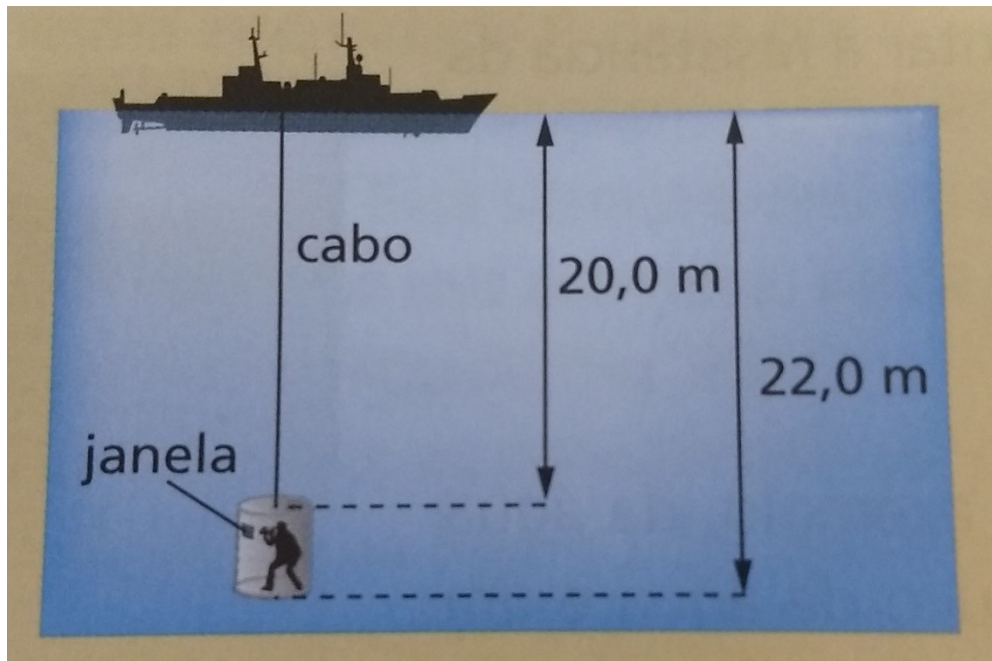
Portanto:

$$T = P - E = (3,2 \cdot 10^4 N) - (3,0 \cdot 10^4 N)$$

$$T = 2 \cdot 10^3 N$$

Exercício Resolvido 1.4

Um cinegrafista adentra numa câmara cilíndrica, de paredes de aço. A massa do conjunto câmara cinegrafista é $m = 3200\text{kg}$ e a área da base do cilindro é $A = 1,50\text{m}^2$. A câmara é mantida na profundidade indicada na figura por meio de um cabo de aço preso a uma embarcação. Suponha que a aceleração da gravidade local seja $g = 10,0\text{m/s}^2$, e que a densidade da água seja constante e dada por $\rho = 10^3\text{kg/m}^3$. Admita ainda que a pressão atmosférica seja $P_{atm} = 10^5\text{Pa}$.



Calcule a intensidade da:

- c) Força exercida pela água na base superior da câmara;
- d) Força exercida pela água na base inferior da câmara;
- e) Força resultante exercida pela água sobre a câmara;
- f) Força de tração no fio.

Resolução:

- c) Na profundidade $h_1 = 20,0$, a pressão p_1 é dada por:

$$p_1 = p_{atm} + \rho g h_1$$

$$p_1 = (10^5) + (10^3)(10)(20)$$

$$p_1 = 3 \cdot 10^5 \text{ N/m}^2 = 3 \cdot 10^5 \text{ Pa}$$

Sendo $A = 1,52 \text{ m}^2$, a força total exercida na base superior tem intensidade:

$$F_1 = p_1 \cdot A$$

$$F_1 = (3 \cdot 10^5 \text{ N/m}^2)(1,50 \text{ m}^2)$$

$$F_1 = 4,50 \cdot 10^5 \text{ N}$$

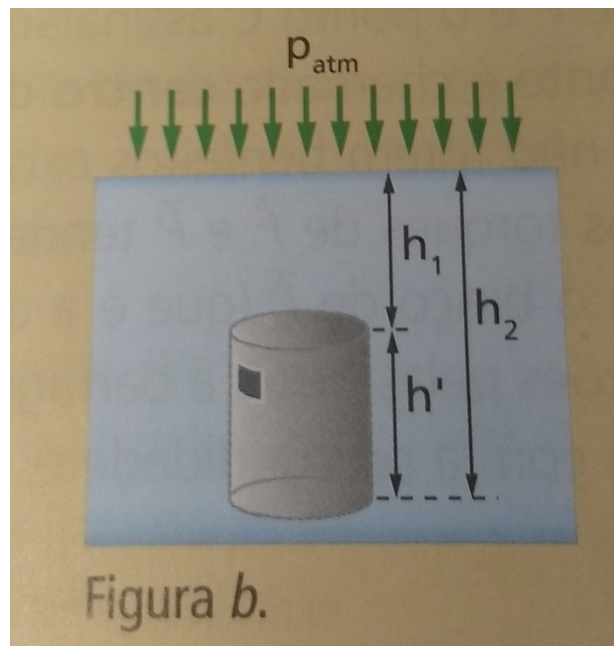


Figura b.

Na profundidade $h_2 = 22,0$, a pressão é dada por:

$$p_2 = p_{atm} + \rho gh_2 \text{ ou } p_2 = p_1 + \rho gh' \text{ em que } h' = 2,0m .$$

Assim:

$$p_2 = p_1 + \rho gh'$$

$$p_2 = (310^5) + (10^3)(10)(2)$$

$$p_2 = (3 \cdot 10^5) + \underbrace{(0,20 \cdot 10^5)}_{2,00 \cdot 10^4} = 3,20 \cdot 10^5 \text{ Pa}$$

A força total exercida pela água na base inferior tem intensidade:

$$F_2 = p_2 \cdot A$$

$$F_2 = (3,210^5 \text{ N} / \text{m}^2)(1,50\text{m}^2)$$

$$F_2 = 4,80 \cdot 10^5 \text{ N}$$

d) Pela simetria da situação (fig. A), na face lateral as forças (horizontais) se cancelam. Assim, a força resultante exercida pela água sobre a câmara (\vec{F}_A) é a resultante de \vec{F}_1 com \vec{F}_2 :

$$\vec{F}_A = \vec{F}_1 + \vec{F}_2$$

Observando a figura d e lembrando que $F_2 > F_1$, temos:

$$F_A = F_2 - F_1$$

$$F_A = 4,80 \cdot 10^5 - 4,50 \cdot 10^5$$

$$F_A = 0,30 \cdot 10^5$$

$$F_A = 3,0 \cdot 10^4 \text{ N}$$

e) A câmara está em equilíbrio sob a ação de três forças: a tração do fio (\vec{T}), o peso (\vec{P}) e a força total exercida pela água (\vec{F}_A):

Assim, devemos ter:

$$T + F_A = P \text{ ou } T = P - F_A$$

Mas:

$$P = mg$$

$$P = (3200\text{kg})(10\text{m/s}^2)$$

$$P = 3,2 \cdot 10^4 \text{ N}$$

Portanto:

$$T = P - F_A = (3,2 \cdot 10^4 \text{ N}) - (3,0 \cdot 10^4 \text{ N})$$

$$T = 2 \cdot 10^3 \text{ N}$$

Exercício Resolvido 1.5

Dentro de um recipiente fechado é inserido um gás sob pressão de $2,3 \cdot 10^5 \text{ N/m}^2$, e um líquido, cuja densidade é $4,0 \text{ g/cm}^3$. Sendo $g = 10 \text{ m/s}^2$ determine a pressão num ponto que se situa 3 cm abaixo da superfície de contato entre o gás e o líquido (vide figura).

Resolução:

De acordo com a teoria, a pressão num fluido varia de acordo com a expressão:

$$dp = \rho g dz$$

Portanto,

$$p = p_0 + \rho g z$$

No caso,

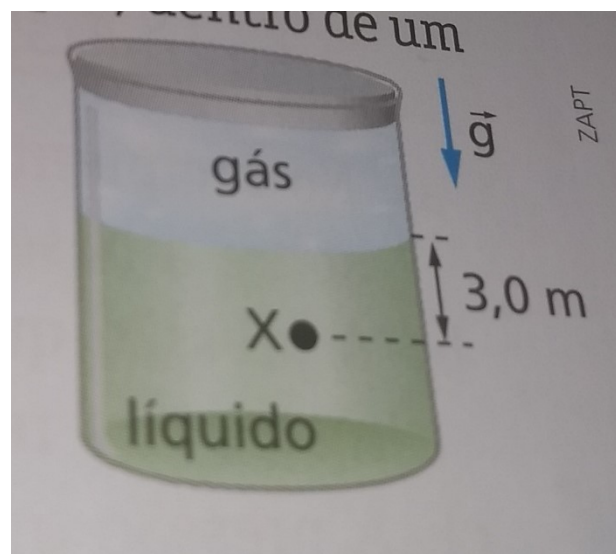
$$p_0 = 2,3 \cdot 10^5 \text{ N/m}^2 = 2,3 \cdot 10^5 \text{ Pa}$$

$$g = 10 \text{ m/s}^2$$

$$\rho = 4 \text{ g/cm}^3 = 4000 \text{ kg/m}^3$$

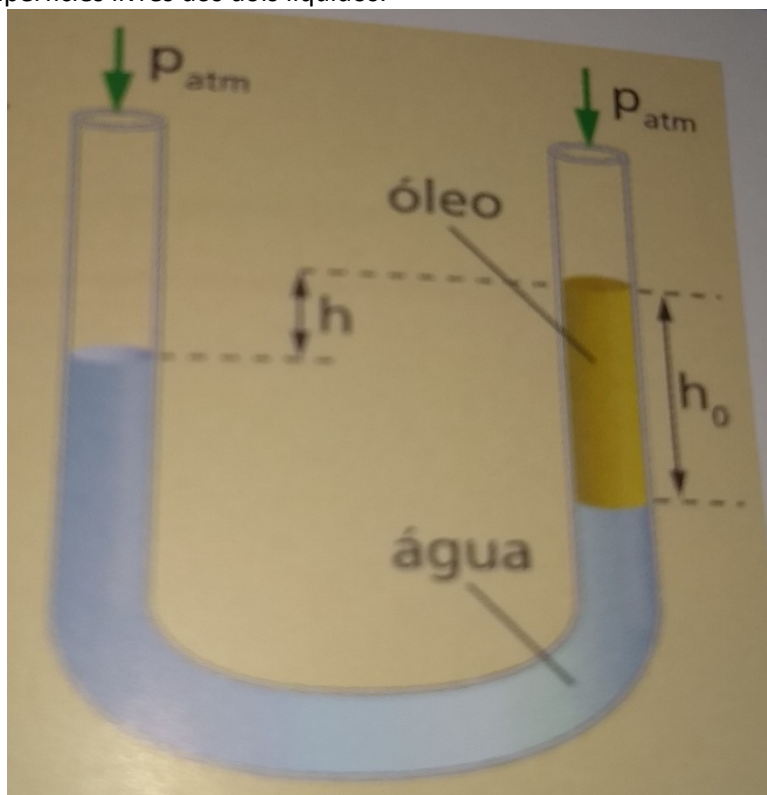
Logo:

$$p = 2,3 \cdot 10^5 + 4 \cdot 10^3 \cdot 10 \cdot 3 = 3,510^5 \text{ Pa}$$



Exercício Resolvido 1.6

Um tubo em U contém dois líquidos imiscíveis em equilíbrio: a água, cuja densidade é $\rho_A = 1,0 \text{ g/cm}^3$, e o óleo de oliva, cuja densidade é $\rho_0 = 0,90 \text{ g/cm}^3$ (vide figura). Sabendo-se que $h_0 = 20 \text{ cm}$, calcule o desnível h entre as superfícies livres dos dois líquidos.

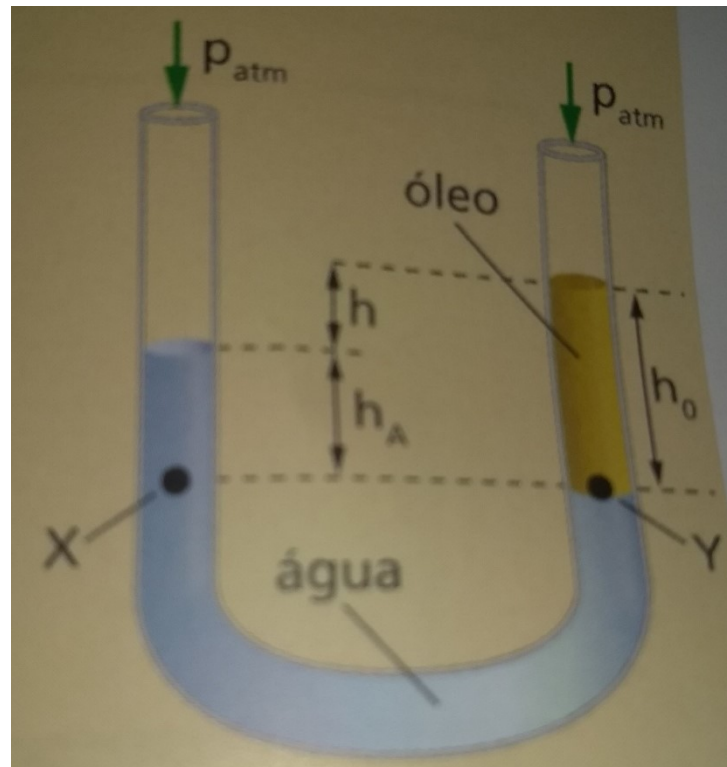


Resolução:

Os pontos X e Y da figura abaixo pertencem a um mesmo líquido, no caso a água e estão no mesmo nível.

Portanto, a pressão no ponto X é igual à pressão no ponto Y. Escrevemos

$$p_x = p_y \quad (1)$$



A pressão p_x é calculada utilizando o ramo esquerdo do tubo, temos assim:

$$p_x = p_{atm} + \rho_A \cdot g \cdot h_A \quad (2)$$

A pressão p_y , por outro lado, é calculada utilizando o ramo direito do tubo. Nesse ramo, temos:

$$p_y = p_{atm} + \rho_0 \cdot g \cdot h_0 \quad (3)$$

Substituindo as expressões 2 e 3 em 1, obtemos:

$$p_{atm} + \rho_A \cdot g \cdot h_A = p_{atm} + \rho_0 \cdot g \cdot h_0$$

$$\rho_A \cdot h_A = \rho_0 \cdot h_0$$

Portanto:

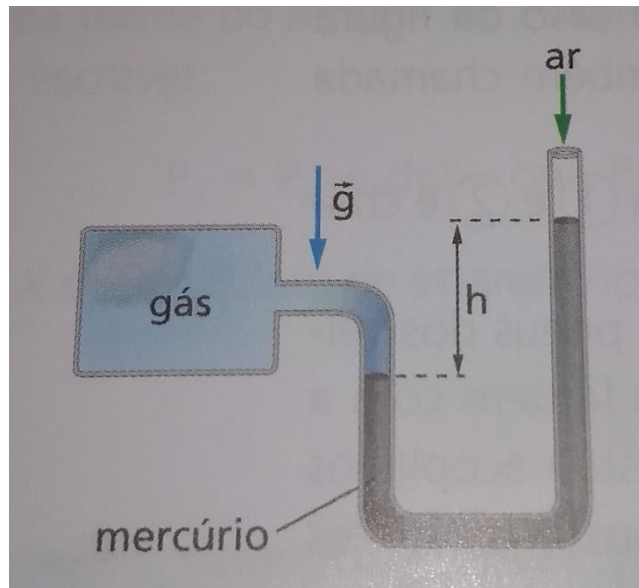
$$h_A = \frac{\rho_0}{\rho_A} \cdot h_0 = \left(\frac{0,90}{1,0} \right) \cdot (20) \Rightarrow h_A = 18cm$$

Assim:

$$h = h_0 - h_A = 20cm - 18cm \Rightarrow h = 2,0cm$$

Exercício Resolvido 1.7

Pode-se medir a pressão de um gás contido em um recipiente por meio do uso do arranjo experimental ilustrado na figura abaixo. O gás comprime uma coluna de mercúrio, cuja densidade é $13,6 \cdot 10^3 \text{ kg/m}^3$, de modo que o desnível h vale 0,380 m.



Sabendo que $g = 10,0 \text{ m/s}^2$ e que a pressão atmosférica vale $p_{atm} = 1,01 \cdot 10^5 \text{ Pa}$, Determine a pressão manométrica do gás.

Resolução:

A pressão exercida pelo gás deve equilibrar a soma de duas pressões: A pressão atmosférica

$$P_0 = 1,01 \cdot 10^5 \text{ Pa}$$

E a pressão exercida pela coluna de altura h do mercúrio. Assim, a pressão é composta por duas contribuições:

$$P_{Gas} = P_0 + \rho_{Hg} gh$$

Donde inferimos que:

$$P_{Gas} = 1,01 \cdot 10^5 + 13,510^3 \cdot 10 \cdot 0,38 = (1,01 + 0,513) \cdot 10^5 \text{ Pa}$$

Exercício Resolvido 1.8

O pistão de sustentação de um elevador hidráulico de carros possui diâmetro de 30 cm.

- Qual é a pressão manométrica necessária para elevar um carro com massa de $1,2 \times 10^3 \text{ kg}$? Expresse essa pressão em pascals e em atmosferas.
- Qual deve ser o diâmetro do pistão onde é aplicada a força para que o mesmo carro seja erguido por uma força equivalente ao peso de 10 kg?

Resolução:

a) A pressão necessária para produzir uma força igual ao peso do carro, $F_2 = Mg$, na área do pistão 2, de diâmetro D , $A_2 = \pi D^2/4$ é

$$P = \frac{Mg}{A_2} = \frac{4Mg}{\pi D^2} = 1,66 \times 10^5 \text{ N/m}^2 = 1,66 \times 10^5 \text{ Pa}$$

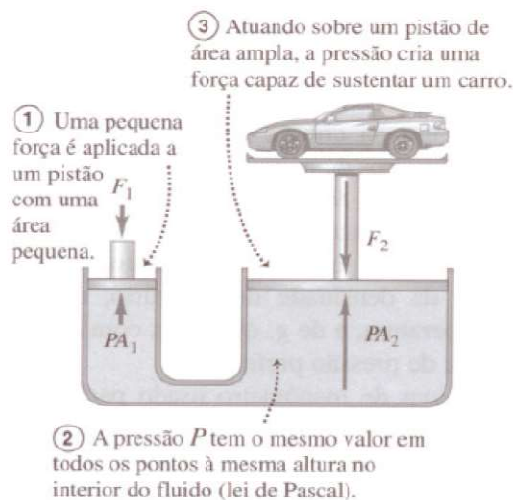
A atmosfera padrão é $\text{atm} = 101325 \text{ Pa}$:

$$P = 1,64 \text{ atm}$$

b) Para a mesma pressão no pistão 1, de diâmetro d , com o peso de $m = 10 \text{ kg}$:

$$P = \frac{4mg}{\pi d^2} = \frac{4Mg}{\pi D^2}$$

$$d = \frac{D}{\sqrt{M/m}} = 2,74 \text{ cm}$$



Exercício Resolvido 1.9

Numa região onde $g = 10 \text{ m/s}^2$ e a pressão atmosférica vale aproximadamente $1,01 \cdot 10^5 \text{ Pa}$, temos um recipiente contendo um líquido de massa específica $\rho = 8,5 \text{ g/cm}^3$. Calcule a pressão num ponto B situado 20 cm abaixo da superfície livre do líquido.

Resolução:

Consideremos um ponto A na superfície livre do líquido. Nesse ponto, a pressão é igual à pressão atmosférica.

$$p_A = p_{\text{atm}} = 1,01 \cdot 10^5 \text{ Pa}$$

Pela lei de Stevin temos:

$$p_B = p_A = \rho gh$$

Mas,

$$\rho = 8,5 \text{ g/cm}^3 = 8,5 \cdot 10^3 \text{ kg/m}^3$$

$$h = 20 \text{ cm} = 0,20 \text{ m}$$

Assim,

$$p_B = p_A = \rho gh = (1,01 \cdot 10^5) + (8,5 \cdot 10^3)(10)(0,20) =$$

$$= 1,01 \cdot 10^5 + 0,17 \cdot 10^5 = 1,18 \cdot 10^5$$

$$\boxed{p_B = 1,18 \cdot 10^5 \text{ Pa}}$$

Exercício Resolvido 1.10

O sistema esquematizado está em equilíbrio num local em que $g = 10 \text{ m/s}^2$. As massas específicas da água e do mercúrio são:

$$\rho_a = 1,0 \text{ g/cm}^3 \quad \text{e} \quad \rho_m = 13,6 \text{ g/cm}^3$$

Sabendo que $x = 68 \text{ cm}$, calcule o valor de y .

Resolução:

Os pontos A e B estão num mesmo nível e pertencem ao mesmo líquido:

$$p_A = p_B \quad (I)$$

Mas, pela lei de Stevin, temos:

$$p_A = p_c + \rho_a g x = p_{at} + \rho_a g x$$

$$p_B = p_D + \rho_m g y = p_{at} + \rho_m g y$$

Substituindo em I:

$$p_a + \rho_a g x = p_{at} + \rho_m g y$$

$$\rho_a x = \rho_m y$$

$$(1,0 \text{ g/cm}^3)(68 \text{ cm}) = (13,6 \text{ g/cm}^3)(y)$$

Portanto:

$$\boxed{y = 5,0 \text{ cm}}$$

Exercício Resolvido 1.11

A figura esquematiza uma prensa hidráulica em que os êmbolos têm áreas $A_1 = 10 \text{ cm}^2$ e $A_2 = 30 \text{ cm}^2$. Aplicando-se uma força de intensidade $F_1 = 40 \text{ N}$ ao êmbolo menor, qual a intensidade F_2 da força transmitida ao êmbolo maior?

Resolução:

$$\frac{F_1}{A_1} = \frac{F_2}{A_2} \Rightarrow \frac{40 \text{ N}}{10 \text{ cm}^2} = \frac{F_2}{30 \text{ cm}^2} \Rightarrow \boxed{F_2 = 120 \text{ N}}$$